
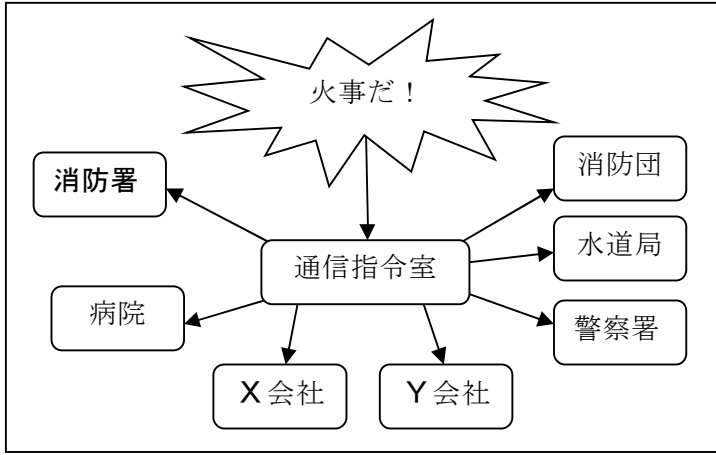


受験番号		性別	
------	--	----	--

1 防災について調べた次の資料1～資料4を見て、あとの(1)～(4)の問いに答えなさい。



資料1 火事が起きたときの通信指令室からの連絡先

資料2 上山口駅付近の地図



資料3 上山口駅付近の消防施設を示した略図

資料4 ある災害に備えた建物



- (1) 資料1の消防署の地図記号を書きなさい。
- (2) 資料1のXとYにあてはまる言葉をそれぞれ書きなさい。
- (3) 資料3を説明した次の文の(①)・(②)内にあてはまる言葉をそれぞれ書きなさい。

資料2を参考にして、資料3の小学校から見た★地点の方位を8方位でいうと(①)であるといえます。また、資料3のA～Cは、「避難場所」・「消火せん」・「防火水そう」のいずれか示したもので、Aは(②)を示したものです。

- (4) 資料4は高知県安芸市で撮影された、ある災害に備えた建物です。その災害名を書きなさい。

2 次の資料を見て、あとの(1)～(3)の問いに答えなさい。

資料 地球儀を見て、ブラジルと日本の位置について説明したカード

地球儀で見ると、日本は(①)大陸の東側に位置しています。また、(②)大陸で最も大きな面積を有するブラジルは、日本の反対側に位置しています。

- (1) 資料の(①)の大陸名を書きなさい。
- (2) 資料の(②)の大陸名を書きなさい。
- (3) 資料の下線部を説明した次の文の(①)・(②)内にあてはまる言葉や数字を書きなさい。

日本の反対側とは、(①)をはさんで北緯と南緯が逆転し、経度が(②)度ずれた位置のことである。

3 次の資料1～資料4を見て、あとの(1)～(4)の問いに答えなさい。

資料1 米作りについての3人の会話

先生：資料2と資料3を見てください。2つの資料の関係について1960年と2000年に注目して比較すると、「なぜ( )」という問いがでてきそうですね。



太郎：この問いからだ、たくさんの予想がでてきそうなので、調べてみたいと思います。また、新潟県は米の生産量が日本一と聞いているので、どれくらいの違いがあるか他の県の生産量と比較してみようと思います。

次郎：ところで「日本のどのあたりに、①米の生産が多い都道府県が集まっているか」が、わかる資料はありますか？たぶん、②東北地方に生産量の多い県が集中しているはず…。

先生：資料は私が用意できますが、自分で、③図形を使って地図上に作物の生産量を表現すると思うよ。図形の大きさによって、生産量のちがいや、どのあたりに集まっているかがわかるからね。きっと、資料をつくるのはおもしろいよ。米以外の作物で資料を作ってみるといいよ。

資料2 新潟県での10アールあたりの米の生産量の変化

資料3 米作りの労働時間の変化



資料4 「みかん」と「かき」の生産量(2016年)

みかん	生産量(トン)	かき	生産量(トン)
神奈川	22900	新潟	11000
静岡	101200	富山	1590
愛知	26300	石川	1310
三重	19200	福井	890
大阪	13700	山梨	7890
和歌山	160200	長野	10500
広島	31700	岐阜(ぎふ)	15200
山口	10600	愛知	15800
徳島	13400	奈良	30600
香川	11400	和歌山	50500
愛媛(えひめ)	120600	鳥取	3230
福岡	22500	島根	2280
佐賀	45100	香川	1220
長崎	53500	愛媛	9370
熊本(くまもと)	74800	福岡	20400

- 資料1の( )内にあてはまる文を、「米の生産量」「労働時間」という2つの言葉を使って、一文で書きなさい。
- 資料1の下線部①のために、田植えの前などに田の土をすき起こし、水を入れて土の面を平らにならすことを何というか、その名前を書きなさい。
- 資料1の下線部②の中で県名と県庁所在地名が同じ県をすべて書きなさい。
- 資料4を参考にして、資料1の下線部③と同じ方法で、「みかん」の生産量の上位4県がわかる資料を以下の注意点にしたがって解答らんを作成しなさい。

**注意点**

- ・「かき」との違いがわかるように作成しなさい。
- ・生産量の数字は、1000トン以下は切り捨てて書きなさい。





4 今年の文化祭で、あなたのクラスでは歴史展示会を開くことになりました。資料1は、その会場のようすを表しています。資料1～4を見て、あとの問いに答えなさい。

資料1

資料2

資料3

資料4



(1) 資料1の奈良時代よりも古い時代に活やくした次のア～エの人物を、時代の古い順に左から並べて、その記号を書きなさい。

ア 中大兄皇子    イ ワカタケル大王    ウ 聖徳太子    エ 卑弥呼

(2) 資料2の展示資料から、平安時代の文化の特徴を説明することになりました。奈良時代の文化とのちがいにふれながら、簡単に説明を書きなさい。

(3) 資料1の「あ」の時代について、次の①、②の問いに答えなさい。

① この時代に幕府がおかれていたのは、現在の何県ですか。県名を書きなさい。

② 下の表は、資料3の X と Y にあてはまる言葉とその内容についてまとめたものです。表のア～エから、その関係として正しいものをそれぞれ一つずつ選んで、その記号を書きなさい。


表

記号	言葉	内容
ア	ご恩	先祖からの領地の所有を認める
イ	ご恩	戦いが起これば、幕府のために戦う
ウ	奉公	先祖からの領地の所有を認める
エ	奉公	戦いが起これば、幕府のために戦う

(4) 資料4は、安土・桃山時代を説明するために用意した展示資料です。この法令が出された目的を、「武士」「身分」という2つの言葉を使って、簡単に書きなさい。

(5) 右の資料5の人物は、江戸時代に活やくした人物です。資料5の人物名を書きなさい。

資料5



5 次の資料1の(あ)～(お)は、日本国内で起こった内乱や日本が国外で戦った戦争を表しています。資料1～3を見て、あとの(1)～(8)の問いに答えなさい。

資料1


世紀	できごと
19	五か条の御誓文 <small>ごせいもん</small> が出される (あ) 大日本帝国憲法 <small>だいにっぽんていこくけんぽう</small> が公布 <small>はっぷ</small> される・・・① (い)
20	八幡製鉄所 <small>やはた</small> がつくられる・・・② (う) 条約改正を完全に達成する・・・③ (え) 男子の普通選挙制度 <small>ふつうせんきよ</small> が定められる・・・④ (お) 日本国憲法 <small>にほんこくけんぽう</small> が公布される 沖縄 <small>おきなわ</small> が日本に復帰する・・・⑤


資料2

※八幡市歌

焰ほのお炎えん々 波なみとうを焦こがし 煙けむり濛もう々 天あまにみなぎる  
 天下てんかの壯観そうかん 我が製鉄所わがせいてつじょ 八幡やはた 八幡やはた 吾等われらの八幡市  
 市の発展しよのはつぜんは 吾等われらの責務せきむ

※現在は北九州市の一部

資料3 ※  は、そのときの日本の領土を表す



(1) 次の a～c にあてはまる内乱または戦争をそれぞれ一つずつ選んで、(あ)～(お)の記号を書きなさい。

- a ロシアは満州まんしゅうに軍隊を送り、朝鮮ちょうせんへ勢力せいりょくをのぼそうとした。このため、朝鮮に力をのぼそうとする日本と対立し、戦争が始まった
- b 士族しぞくの間では、政府に対する不満が高まり、このため戦争がおこった
- c この戦争が始まる前に、日本は国際連盟こくさいれんめいを脱退だつたいした

(2) 資料1の①の大日本帝国憲法について正しく説明しているものを次のア～エからすべて選んで、その記号を書きなさい。

- ア この憲法は、皇帝の力が強いドイツの憲法を参考にしてつくられた
- イ 帝国議会ていこくぎかいは、枢密院すうみつゐんと貴族院きしゆゐんからなる二院制にゐんせいがとられた
- ウ 主権者は天皇とされ、帝国議会のすべての議員を天皇が指名した
- エ 言論の自由などの国民の権利は、法律の範囲はんゐ内で認められた

(3) 資料1の②の八幡製鉄所について、資料2は1927(昭和2)年に市制10周年を記念して制定されたと考えられている八幡市歌です。この歌から読み取れることについて述べた次の  内の文中 ( ) 内にあてはまる言葉を書きなさい。

当時の人々にとって、製鉄所の煙突せいてつ えんとつやそこからのぼる煙は、( ) のシンボルだった。

- (4) 資料1の③で成果をあげた人物を、次のア～エから一つ選んで、その記号を書きなさい。  
ア 原敬はらたかし イ 小村寿太郎こむらじゅたろう ウ 大隈重信おおくましげのぶ エ 陸奥宗光むつむねみつ
- (5) 資料1の④で選挙権が認められたのは、どのような人たちですか。それまでの制度とのちがいにふれながら、簡単に書きなさい。
- (6) 次のア～エのできごとは資料1の⑤の前後のできごとです。次のア～エを年代の古い順に左から並べて、その記号を書きなさい。  
ア 日本が国際連合こくさいれんごうに加わる イ 警察予備隊けいさつよびたいがつくられる  
ウ 中華人民共和国と平和友好条約を結ぶ エ 第18回オリンピック東京大会が開かれる
- (7) 資料3のAの領土りょうどで日本が始めた内乱または戦争のうち、最初のを資料1の(あ)～(お)から一つ選んでその記号を書きなさい。
- (8) 資料3のBの領土りょうどになっているのは、資料1のどの内乱または戦争のあとですか。資料1の(あ)～(お)から一つ選んで、その記号を書きなさい。

平成 2 9 年 度 社 会 科 入 試 学 力 検 査 問 題 解 答 用 紙

受 検 番 号		性 別	
---------	--	-----	--

1	(1)				
	(2)	X		Y	
	(3)	①		②	
	(4)				

2	(1)				
	(2)				
	(3)	①			
		②			

3	(1)				
	(2)				
	(3)				
	(4)				

4	(1)	→	→	→	
	(2)				
	(3)	①	県		
		②	X		Y
	(4)				
	(5)				

5	(1)	a		b		c	
	(2)						
	(3)						
	(4)						
	(5)						
	(6)	→	→	→			
	(7)						
	(8)						

合 計	
	/ 4 0